

2010학년도 3월 고3 전국연합학력평가 문제지

제 4 교시 사회탐구 영역(경제)

성명  수험번호           3

1

- 자신이 선택한 과목의 문제지인지 확인하십시오.
- 문제지의 해당란에 성명과 수험 번호를 정확히 쓰시오.
- 답안지의 해당란에 성명과 수험 번호를 쓰고, 또 수험 번호와 답을 정확히 표시하십시오.
- 선택한 과목 순서대로 문제를 풀고, 답을 표시하십시오.
- 문항에 따라 배점이 다르니, 각 물음의 끝에 표시된 배점을 참고하십시오. 3점 문항에만 점수가 표시되어 있습니다. 점수 표시가 없는 문항은 모두 2점입니다.

1. 다음 상황에 대한 옳은 분석을 <보기>에서 고른 것은?



- <보 기> —
- ㄱ. 업주는 상품 차별화 전략을 쓰고 있다.
  - ㄴ. 손님은 자신이 유일한 수요자임을 강조하고 있다.
  - ㄷ. 손님은 기회비용 개념을 이용하여 업주를 설득하고 있다.
  - ㄹ. 업주는 숙박 서비스의 공급이 가격에 탄력적이라고 생각한다.

- ① ㄱ, ㄴ    ② ㄱ, ㄷ    ③ ㄴ, ㄷ    ④ ㄴ, ㄹ    ⑤ ㄷ, ㄹ

2. 표를 근거로 실업률이 떨어진 이유를 가장 잘 추론한 것은? (단, 노동 가능 인구는 변함이 없다고 가정한다.) [3점]

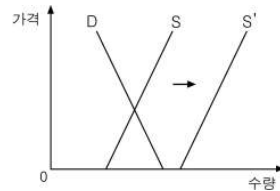
(단위 : %)

구분	경제 활동 참가율	고용률*	실업률
2008년	64.0	60.0	6.3
2009년	62.0	60.0	3.2

\* 고용률 : 노동 가능 인구에서 취업자가 차지하는 비율

- ① 취업자의 수가 늘었기 때문이다.
- ② 노동의 공급이 증가했기 때문이다.
- ③ 경제 활동 인구가 늘었기 때문이다.
- ④ 비경제 활동 인구가 늘었기 때문이다.
- ⑤ 경기가 회복 국면에 접어들었기 때문이다.

3. 그림은 어떤 재화의 시장에서 나타난 변화이다. 변화 이후 이 재화에 대한 설명으로 옳은 것은?



- ① 희소성이 없다.
- ② 정부가 공급한다.
- ③ 소비가 이루어지지 않는다.
- ④ 사람들에게 유용하지 않다.
- ⑤ 대가를 지불해야 얻을 수 있다.

4. 다음 자료에 대한 옳은 분석을 <보기>에서 고른 것은? [3점]

- 갑과 을의 용돈은 각각 1,000원, 1,500원이다.
- 갑과 을은 용돈 전부를 떡볶이나 어묵에 소비한다.
- 떡볶이는 한 접시에 1,000원, 어묵은 한 개 500원이다.

- <보 기> —
- ㄱ. 떡볶이 한 접시의 기회비용은 갑이 을보다 작다.
  - ㄴ. 어묵 한 개를 먹음으로써 얻은 만족은 을이 갑보다 크다.
  - ㄷ. 어묵 가격이 오르면 어묵 한 개를 소비할 때의 기회비용은 커진다.
  - ㄹ. 갑이 떡볶이 한 접시를 소비한다면 그로 인한 만족이 1,000원의 가치보다 크다고 보았기 때문이다.

- ① ㄱ, ㄴ    ② ㄱ, ㄷ    ③ ㄴ, ㄷ    ④ ㄴ, ㄹ    ⑤ ㄷ, ㄹ

5. 다음 뉴스에서 말하는 규제 정책에 대한 해석이나 추론으로 가장 적절한 것은?

최근 음주와의 전쟁을 선포한 러시아 정부가 맥주부터 손을 대기 시작했습니다. 다음 달부터는 TV 맥주 광고에서 맥주 마시는 장면뿐 아니라 맥주병끼리 부딪치는 장면도 금지됩니다. 맥주 판매도 규제하기 시작했는데, 330ml가 넘는 캔맥주나 병맥주를 팔지 못하도록 할 방침입니다. 이에 대해 “용량을 줄이면 여러 병 사 먹으면 그만이지요. 달라질 건 없어요. 어차피 맥주는 팔리게 되어 있어요.”라며 맥주의 주 소비층인 청년층이 반발하고 있습니다.



- ① 맥주 소비의 긍정적 외부 효과를 축소시키려 한다.
- ② TV 광고업계의 일자리가 늘어나는 요인이 될 것이다.
- ③ 청년들의 소비 행태로 보아 정책 효과가 제한될 수 있다.
- ④ 용량 규제로 맥주의 공급 곡선이 우측으로 이동할 수 있다.
- ⑤ 맥주의 소비가 감소하여 대체 주류의 가격이 인하될 것이다.

6. 밑줄 친 ㉠~㉣에 대한 옳은 설명을 <보기>에서 고른 것은?  
[3점]

갑국 정부는 일정 규모 이상의 재산을 가진 사람들에게 ㉠부유세를 부과하고 있다. 그런데 최근에 부유세액 산정을 ㉡재산세에 비례하여 부과하던 방식에서 ㉢재산에 비례하여 부과하는 방식으로 변경하였다. 그 결과 정부의 부유세 수입은 변동이 없었으나, ㉣일부 계층의 사람들은 이에 크게 반발하였다.

\* 재산세는 누진세율로 부과되고 있다.

— <보 기> —

- ㄱ. ㉠은 납세자와 담세자가 일치한다.
- ㄴ. ㉡은 재산에 대해 누진세율이 적용되는 효과를 갖는다.
- ㄷ. ㉢에서 ㉣으로 변경됨에 따라 소득 재분배 효과가 커진다.
- ㄹ. ㉣은 주로 빈곤층일 것이다.

- ① ㄱ, ㄴ    ② ㄱ, ㄷ    ③ ㄴ, ㄷ    ④ ㄴ, ㄹ    ⑤ ㄷ, ㄹ

7. 다음 기사의 경제 현상으로 인해 나타날 수 있는 변화로 가장 적절한 것은?

○○신문

제 000호 00판

종이 대신 지폐를 재료로 사용해 제작한 '지폐 광고'가 해외 네티즌들의 눈길을 끌고 있다. 화제가 된 광고에는 광고판의 재료로 종이 대신 '집바브웨 지폐'가 사용되었다. 광고판에 사용된 지폐는 총 25억 집바브웨 달러인데, 이 돈으로는 광고판 종이를 살 수 없었던 것이다. 집바브웨에서는 1조 달러의 지폐가 발행된 적도 있다.

- ① 경상 수지가 개선된다.
- ② 시장 기능이 활성화된다.
- ③ 실물 자산의 가치가 하락한다.
- ④ 화폐의 실질 구매력이 높아진다.
- ⑤ 화폐의 교환 매개 기능이 약화된다.

8. 다음 자료에 대한 분석으로 옳은 것은? [3점]

표는 갑국과 을국이 X재와 Y재를 1개 생산하는 데 드는 비용을 나타낸 것이다. 생산요소는 노동뿐이고, 양국에서 하루에 투입 가능한 노동의 양은 800단위로 동일하다. 그리고 두 국가 모두 X재와 Y재의 단위당 생산비는 생산량에 관계없이 일정하다.

국가		(단위 : 노동량)	
		갑국	을국
상품	X재	10	10
	Y재	8	10

- ① 갑국은 X재와 Y재 두 상품 모두에 절대 우위가 있다.
- ② 갑국이 하루에 최대 생산할 수 있는 X재는 100개이다.
- ③ 비교 우위론에 따르면 을국은 X재 생산에 특화한다.
- ④ 을국의 경우 X재와 Y재의 교환 비율이 1:1일 때 무역 이익이 발생한다.
- ⑤ X재 1개 생산에 따른 기회비용은 을국이 갑국보다 크다.

[9 ~ 10] 다음은 대본의 일부이다. 물음에 답하십시오.

# 장면 1 (장터 곡물전)

농민 : 이백 섬을 팔까 하는데 한 섬에 스물다섯 냥이라고요?  
상인 : 지금 열 섬 구하기도 어려운 판에, 이백 섬이나!

# 장면 2 (귀족 별채)

귀족 1 : 입소문이 퍼지면서 곡물가가 천정부지로 올랐습니다.  
귀족 2 : 그래도 계속 사들여야지요.

# 장면 3 (관아)

관리 1 : 천 섬을 시중에 풀었는데도 가격이 계속 오르고 있습니다. 앞으로 천 섬을 더 풀 생각입니다.  
관리 2 : 가격이 떨어지지 않으면 특단의 조치를 취할 수밖에요.

# 장면 4 (장터 곡물전)

상인 1 : 관아에서 곡물가를 한 섬에 열다섯 냥 이하로 한다는 언땀을 내렸어.  
상인 2 : 꼭 지켜야 하는 거야?

9. 위 대본의 상황에 대한 옳은 분석을 <보기>에서 고른 것은?

— <보 기> —

- ㄱ. 장면 1에서 곡물 시장은 초과 공급 상태에 있다.
- ㄴ. 장면 2에서 귀족들은 사재기를 통해 곡물가 결정에 영향을 미치고 있다.
- ㄷ. 장면 3에서 관청은 공급 증가를 통해 가격 안정을 도모하고 있다.
- ㄹ. 장면 1~3에서 곡물가는 수요·공급의 원리와 무관하게 결정되고 있다.

- ① ㄱ, ㄴ    ② ㄱ, ㄷ    ③ ㄴ, ㄷ    ④ ㄴ, ㄹ    ⑤ ㄷ, ㄹ

10. 장면 4의 밑줄 친 가격 정책과 관련된 설명으로 옳은 것은?

- ① 암시장이 나타나기도 한다.
- ② 생산자 보호를 목적으로 한다.
- ③ 공급 과잉으로 인한 문제를 해결하려고 한다.
- ④ 책정된 곡물가는 일반적으로 시장 가격보다 높다.
- ⑤ 사람들은 책정된 가격에서 원하는 만큼 곡물을 소비할 수 있다.

11. 다음 자료는 최근 GDP의 대안으로 제시된 지표들이다. 이 지표들을 개발한 사람들의 입장이 아닌 것은?

구분	내용
인간개발지수	1인당 실질 GDP와 기대 수명, 성인 문자 해독률, 교육 관련 지표를 반영
행복 GDP	기존 GDP외에 삶의 질, 지속 가능성, 환경 등을 측정
웰빙 지표	예술 문화, 시민 참여, 지역 사회의 생명력, 시민 교육, 생활 수준, 건강, 시간 활용 등 8개 영역에서 삶의 질 변화를 측정

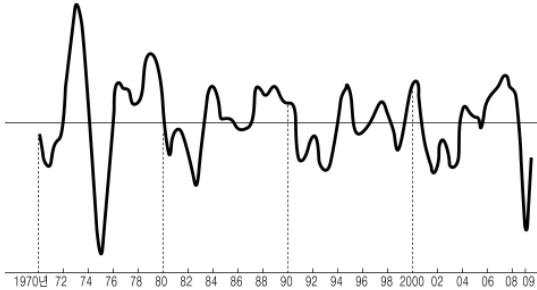
- ① 분배보다는 성장이 중요하다.
- ② 행복은 소득만으로 측정할 수 없다.
- ③ 경제 외적인 활동의 가치도 인정해야 한다.
- ④ 경제 발전과 사회 발전은 병행되어야 한다.
- ⑤ 양적 측면 이외에 질적 측면도 고려해야 한다.

# 사회탐구 영역(경제)

경제

[12~13] 다음 자료를 읽고 물음에 답하십시오.

[자료 1] OECD 국가들의 경기 순환 곡선



[자료 2] 더블딥은 나타날 것인가

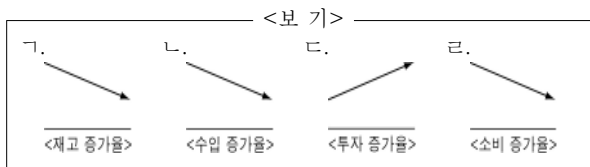
전세계적으로 더블딥\* 논쟁이 확산되고 있다. 우리나라도 예외는 아니다. 2010년의 우리 경제에 대해 A 경제 연구소는 더블딥이 우려된다고 주장한 반면, B 경제 연구소는 경기 회복 국면이 계속될 것이라고 주장하였다.

\* 더블딥 : 경기 침체 후 잠시 회복기를 보이다가 경기 호황이 오기도 전에 다시 침체에 빠지는 이중 침체 현상

12. [자료 1]에 대한 분석 및 추론으로 옳지 않은 것은? [3점]

- ① 1970년 이후 더블딥은 3번 나타났다.
- ② 1970년대 전반기에 경기 변동의 진폭이 가장 컸다.
- ③ 1979~80년의 경기 변동에는 유가 급등이 영향을 끼쳤을 것이다.
- ④ 1990~91년에는 국·공채를 매각하는 정책이 필요했을 것이다.
- ⑤ 2009년에는 확장 정책을 실시한 국가들이 많았을 것이다.

13. [자료 2]의 논쟁에서 B 경제 연구소의 주장을 뒷받침하는 자료를 <보기>에서 고른 것은?



- ① 가, 나    ② 가, 다    ③ 나, 다    ④ 나, 라    ⑤ 다, 라

14. 다음 글에 대한 설명으로 옳은 것은? [3점]

과거 갑국 국민 대다수는 비싼 A재 대신 맛은 덜하지만 값싼 B재나 C재를 주로 소비하였다. 그러나 소득 수준이 향상되자 B재, C재의 소비를 줄이는 대신 A재 소비를 늘리고 있다. 그런데 A재, B재와는 달리 C재는 가격이 떨어지면 수요량이 오히려 감소하는 특성이 있다.

- ① A재와 B재는 보완 관계에 있다.
- ② A재는 정상재, B재와 C재는 열등재이다.
- ③ C재는 수요 법칙이 적용되는 재화이다.
- ④ 소득 증가시 A재의 소비 지출액은 감소한다.
- ⑤ 소득 감소는 B재의 가격을 하락시키는 요인이다.

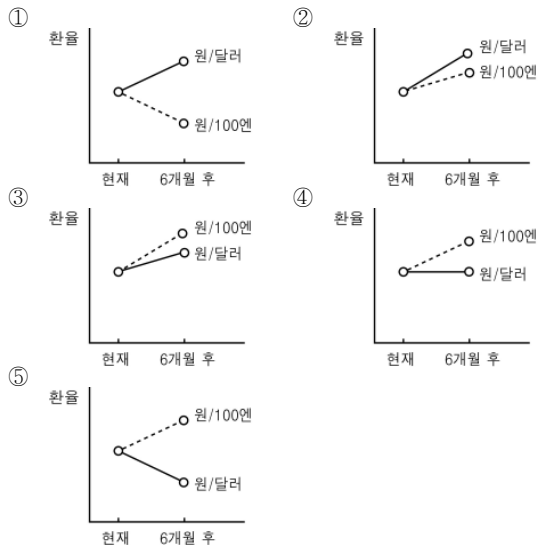
15. 그림은 경제 수업의 한 장면이다. 밑줄 친 '이 재화'에 대한 설명으로 옳은 것은?



- ① 시장을 통해 공급된다.
- ② 경제적 가치가 없는 재화이다.
- ③ 동일한 성격을 갖는 재화의 예로 가로등이 있다.
- ④ 생산에 드는 사적 비용이 사회적 비용보다 크다.
- ⑤ 한 사람의 소비는 다른 사람의 소비를 감소시킨다.

16. 다음 자료는 어느 경제연구소가 환율 변동 추이를 예상하고 작성한 보고서의 일부이다. 이 연구소가 예상한 환율 변동 추이에 해당하는 것은? [3점]

경제 주체	상황
일본에서 수입한 부품으로 만든 제품을 미국에 수출하는 국내 기업	유리
일본 대학에 유학하고 있는 자녀에게 학비를 보내는 한국 학부모	불리



# 사회탐구 영역(경제)

17. 다음 신문기사에 대한 옳은 분석을 <보기>에서 고른 것은?

○○신문 2009년 ○○월 ○○일

미분양 아파트 현황 (단위: 천 호)

○ 미분양 아파트에 대한 양도소득세 감면 혜택을 연장 해달라는 주택건설업계의 요구가 잇따르고 있다. 이에 대해 정부 관계자는 “미분양 아파트가 줄어들고 있고 세수 부족 문제가 있다.”며 수용할 수 없다고 밝혔다. 정부는 실물경기 침체로 쌓여가고 있는 미분양 아파트 문제를 해결하기 위해 2009년 2월부터 1년간 한시적으로 양도소득세 감면 조치를 취했다.

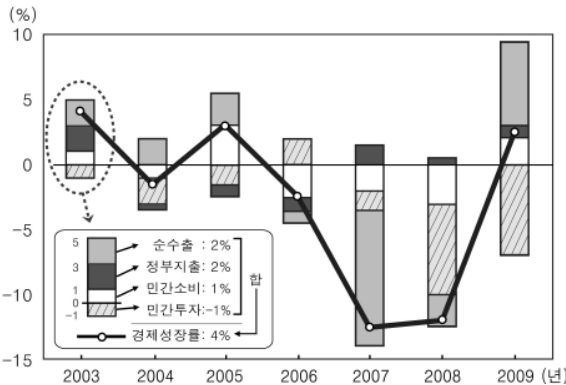
\* 양도소득세 : 부동산 매매차익에 대해 부과되는 세금

<보기>

ㄱ. ㉠은 미분양 아파트 가격의 하락 요인으로 작용한다.  
 ㄴ. 미분양 아파트 문제는 수도권 지역에서 더 심각하다.  
 ㄷ. 정부 관계자는 ㉠으로 인해 재정이 악화될 수 있다고 보고 있다.  
 ㄹ. 주택건설업계는 미분양 아파트 해소를 위한 수요 측면의 대책을 요구하고 있다.

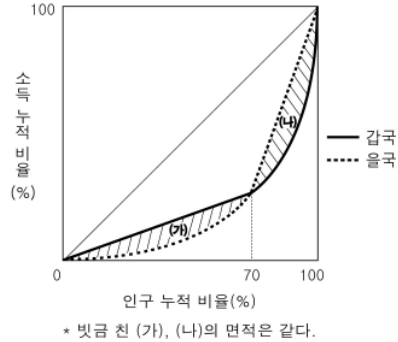
- ① ㄱ, ㄴ    ② ㄱ, ㄷ    ③ ㄴ, ㄷ    ④ ㄴ, ㄹ    ⑤ ㄷ, ㄹ

18. 그림은 어느 국가의 경제성장률에 대한 부문별 기여도이다. 이에 대한 분석으로 옳은 것은? [3점]



- ① 경제 성장의 부문별 기여도를 공급 측면에서 파악하고 있다.  
 ② 2004년 이후 소비 심리는 지속적으로 개선되었다.  
 ③ 2006년에는 기업의 투자 감소가 경기 침체의 주요 원인이었다.  
 ④ 2007년에는 정부의 경기 부양책에도 불구하고 경기는 침체되었다.  
 ⑤ 2009년에 수출보다 내수가 경제 성장에 더 크게 기여하였다.

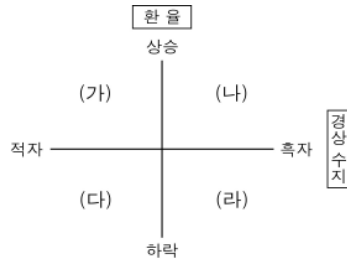
19. 그림은 2009년 갑국과 을국의 로렌츠 곡선이다. 이에 대한 분석으로 옳은 것은? [3점]



- ① 지니 계수는 갑국이 을국보다 크다.  
 ② 갑국의 경우 상위 30%에 속하는 사람들의 소득은 모두 같다.  
 ③ 상위 30%에 속하는 인구의 소득 누적 비율은 갑국이 을국보다 높다.  
 ④ 하위 70%에 속하는 인구의 소득 불평등도는 갑국이 을국보다 낮다.  
 ⑤ 인구 누적 비율 70%에 위치하는 사람의 소득은 갑국과 을국에서 동일하다.

20. 그림은 어느 모둠이 작성한 발표 자료이다. (가)~(라) 상황에 대한 발표 내용으로 옳지 않은 것은? [3점]

- 탐구 주제 : 경상 수지와 환율의 관계
- 분석 대상 : 각 연도별(1990 ~ 2009) 우리나라 경상 수지와 환율의 변동
- 자료 분석 : 그림과 같이 네 가지 상황이 나타남



- 분석 결과 : (가)와 (라) 상황이 주로 나타났으나, (나)와 (다) 상황이 나타나기도 함

- ① (가) 상황은 외환위기가 있었던 1997년에 나타났습니다.  
 ② (나) 상황은 국내 물가 안정에 부정적으로 작용합니다.  
 ③ (다) 상황에서 자본 수지는 적자가 되는 것이 일반적입니다.  
 ④ (라) 상황에서 자본 이동이 없다면 외환 보유고가 증가합니다.  
 ⑤ (가)보다 (라) 상황이 대외 신인도를 높이는 데 기여합니다.

※ 확인 사항  
 문제지와 답안지의 해당란을 정확히 기입(표기)했는지 확인하십시오.